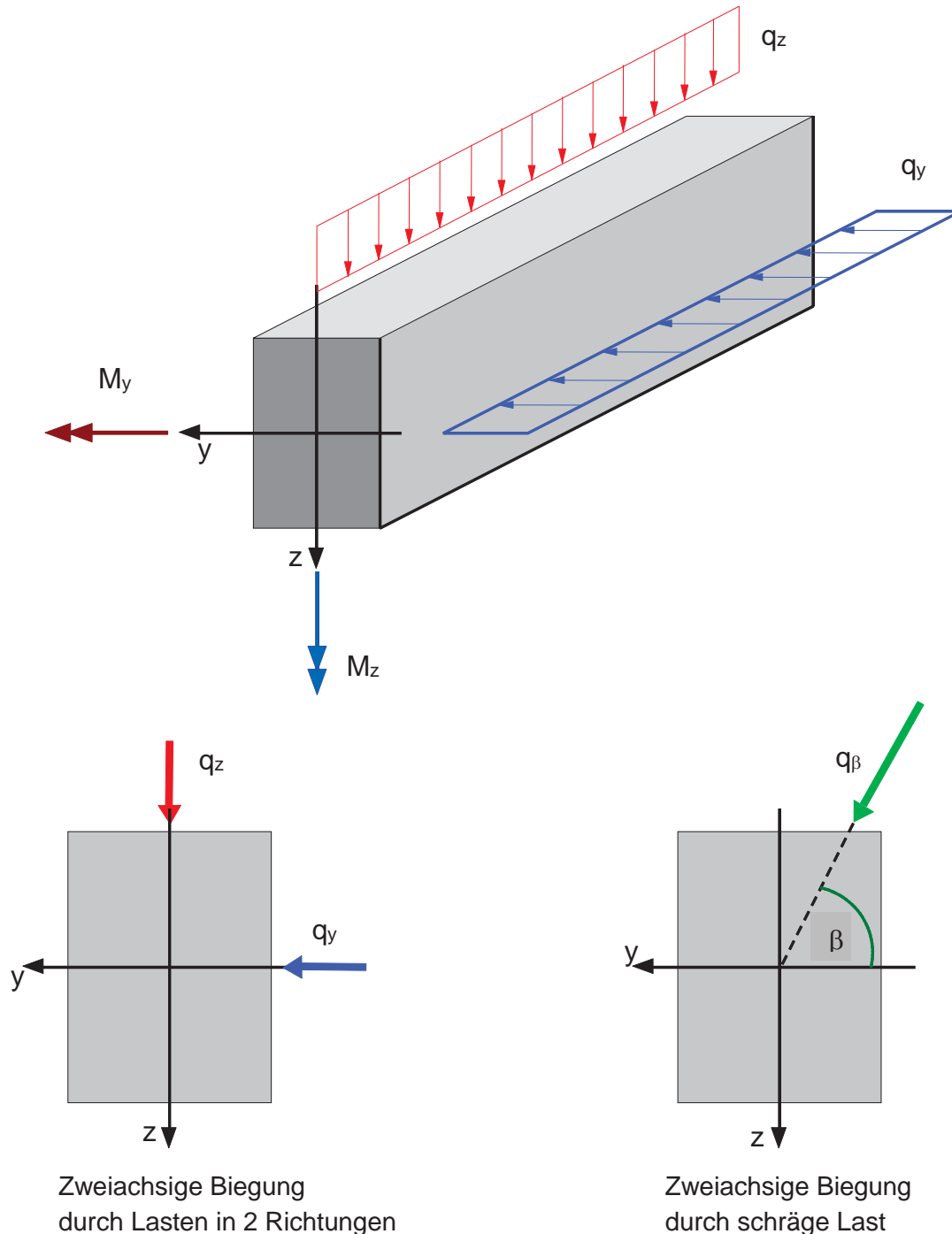


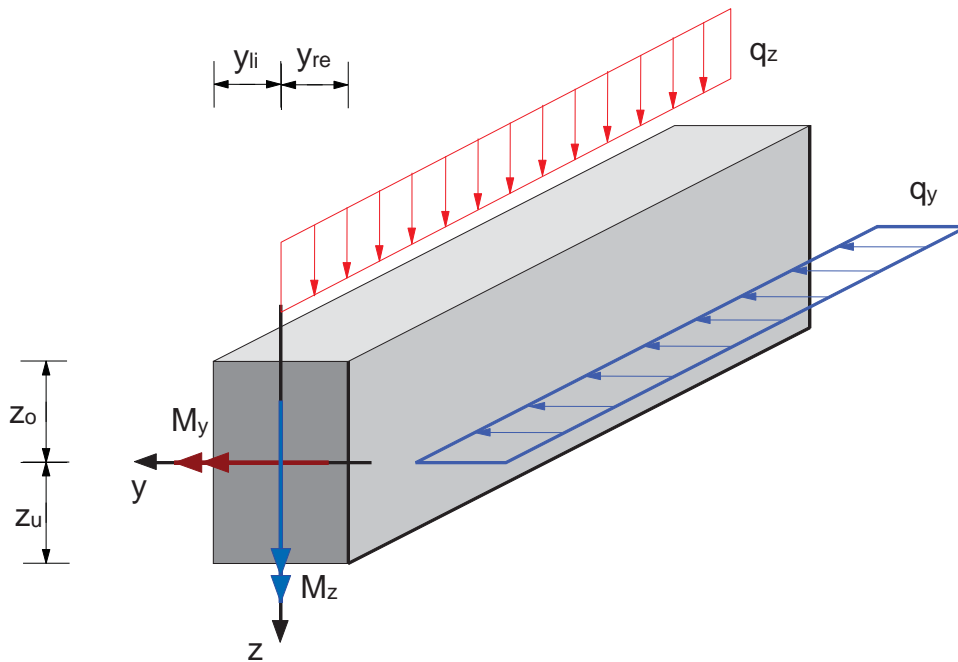
### 5.3.2 Zweiachsige Biegung

Greifen auf jeder der beiden Hauptachsen des Querschnittes äußere Kräfte an oder wirkt eine Kraft außerhalb der Hauptachsen aber im Schwerpunkt der Fläche, wird der Querschnitt auf Doppelbiegung beansprucht.



Für die Ermittlung der Spannungen ermittelt man die aus den Lasten  $q_z$  und  $q_y$  resultierenden Biegemomente  $M_y$  und  $M_z$  und errechnet getrennt, wie für die einachsige Biegung, die zugehörigen Spannung  $\sigma$ . Sämtliche Biegespannungen wirken in die  $x$ -Richtung („Normalspannungen“).

Speziell für einen Rechteckquerschnitt:



Aus dem Moment  $M_y$ :

$$\sigma_o = \frac{M_y}{I_y} \cdot z_o$$

$$\sigma_u = \frac{M_y}{I_y} \cdot z_u$$

Aus dem Moment  $M_z$ :

$$\sigma_{li} = - \frac{M_z}{I_z} \cdot y_{li}$$

$$\sigma_{re} = - \frac{M_z}{I_z} \cdot y_{re}$$

Das negative Vorzeichen bei  $M_z$  resultiert aus der koordinatenorientierten Definition der positiven  $M_z$ -Richtung. Es ist notwendig, damit Zugspannungen auch bei Querbiegung rechnerisch ein positives Vorzeichen erhalten.

Moment	Zugspannung an der	Momentenfläche graphisch antragen
$M_y > 0$	pos. z-Seite	an der pos. z-Seite
$M_y < 0$	neg. z-Seite	an der neg. z-Seite
$M_z > 0$	neg. y-Seite	an der neg. y-Seite
$M_z < 0$	pos. y-Seite	an der pos. y-Seite

Die Eckspannungen ergeben sich durch Überlagerung unter Beachtung des Vorzeichens von  $M_y$ ,  $M_z$ ,  $y$  und  $z$  bei der späteren Zahlenrechnung:

$$\sigma_{o,li} = \frac{M_y}{I_y} \cdot z_o - \frac{M_z}{I_z} \cdot y_{li}$$

$$\sigma_{o,re} = \frac{M_y}{I_y} \cdot z_o - \frac{M_z}{I_z} \cdot y_{re}$$

$$\sigma_{u,li} = \frac{M_y}{I_y} \cdot z_u - \frac{M_z}{I_z} \cdot y_{li}$$

$$\sigma_{u,re} = \frac{M_y}{I_y} \cdot z_u - \frac{M_z}{I_z} \cdot y_{re}$$

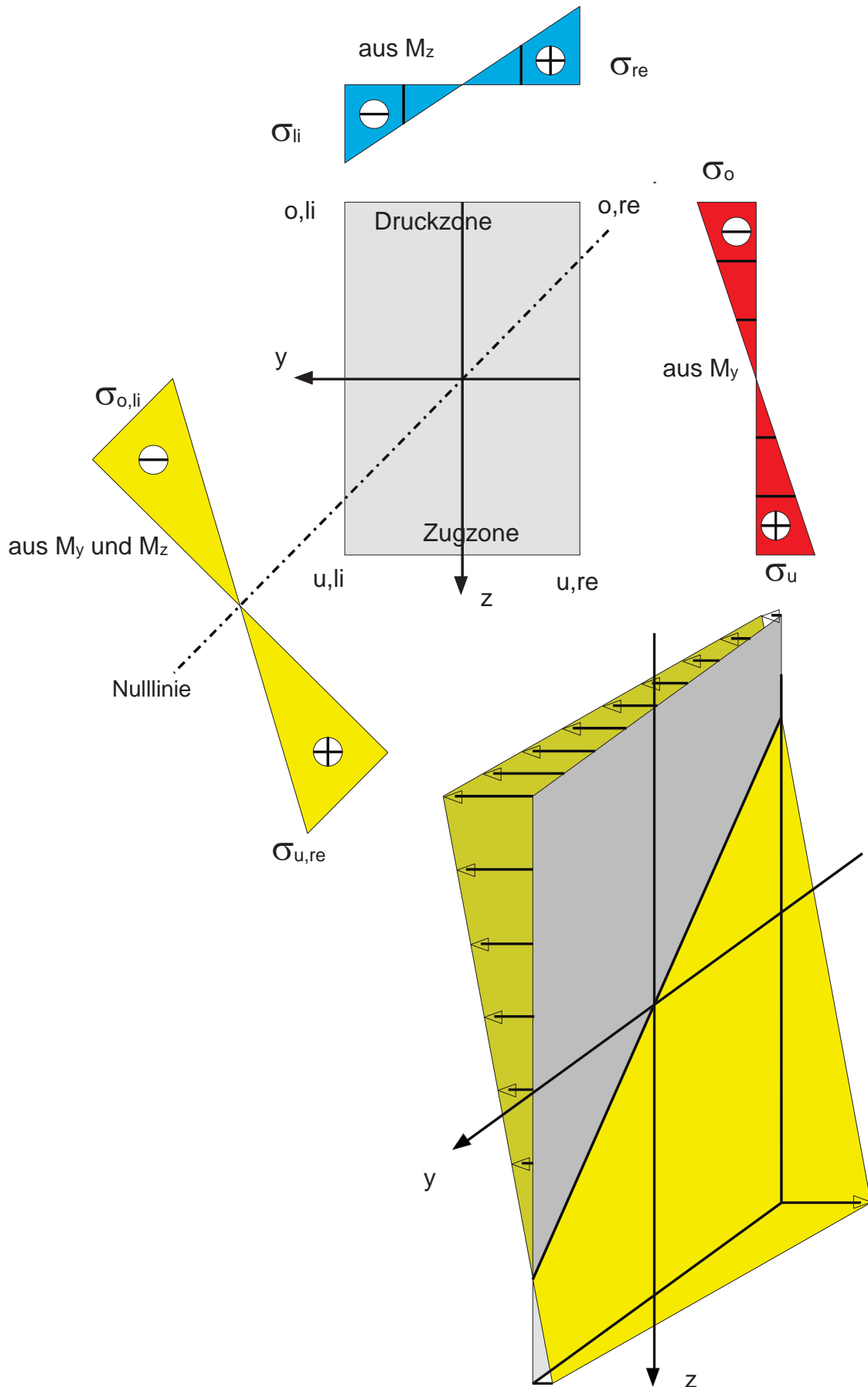
Man erhält 4 verschiedene Spannungswerte, wovon eine die größte Zugspannung ( $\max \sigma$ ) und eine die größte Druckspannung ( $\min \sigma$ ) des Querschnittes wird.

Allgemein gilt für symmetrische Querschnitte (Hauptachsen  $y$  und  $z$ ):

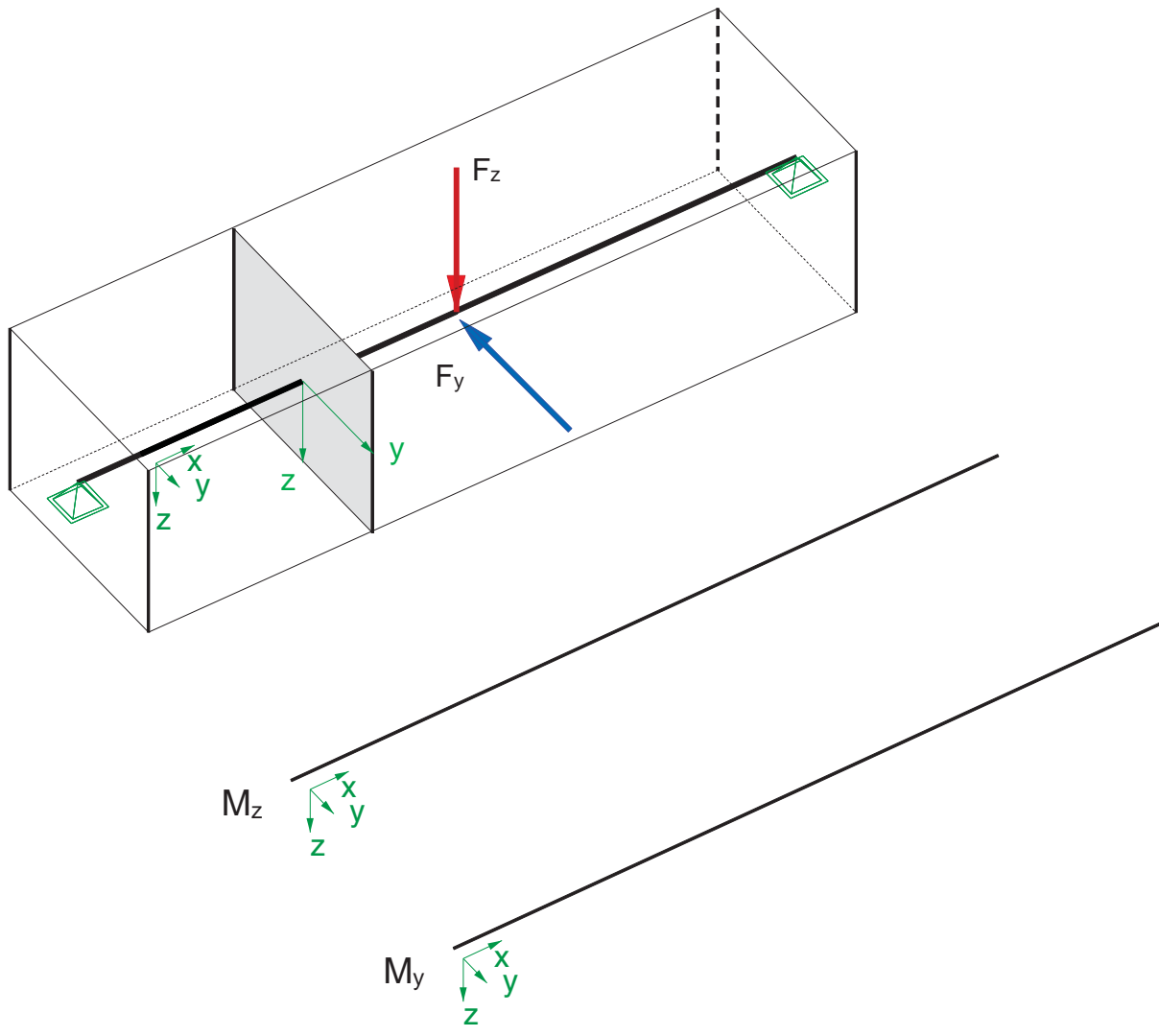
$$\sigma = \frac{M_y}{I_y} \cdot z - \frac{M_z}{I_z} \cdot y$$

Die Nulllinie geht auch bei Doppelbiegung durch den Schwerpunkt. Sie ist aber nicht mehr identisch mit einer Hauptachse.

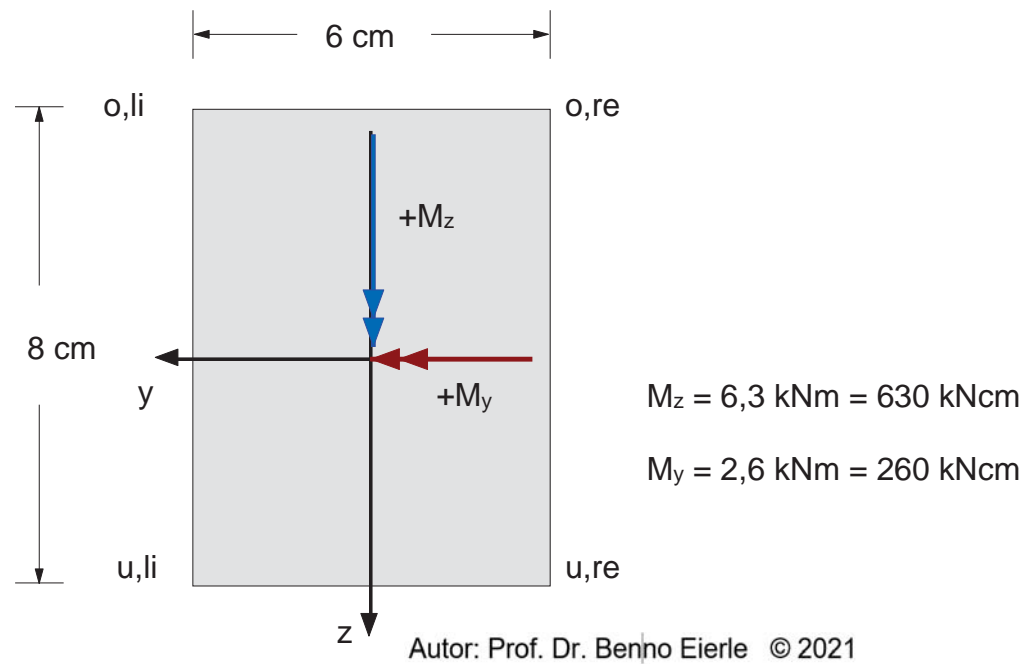
Spannungsverlauf infolge  $M_y$  und  $M_z$



### Beispiel zweisachsige Biegung



### Querschnitt



Randspannungen infolge  $M_y$ :

$$\sigma_o = \frac{M_y}{I_y} z_o =$$

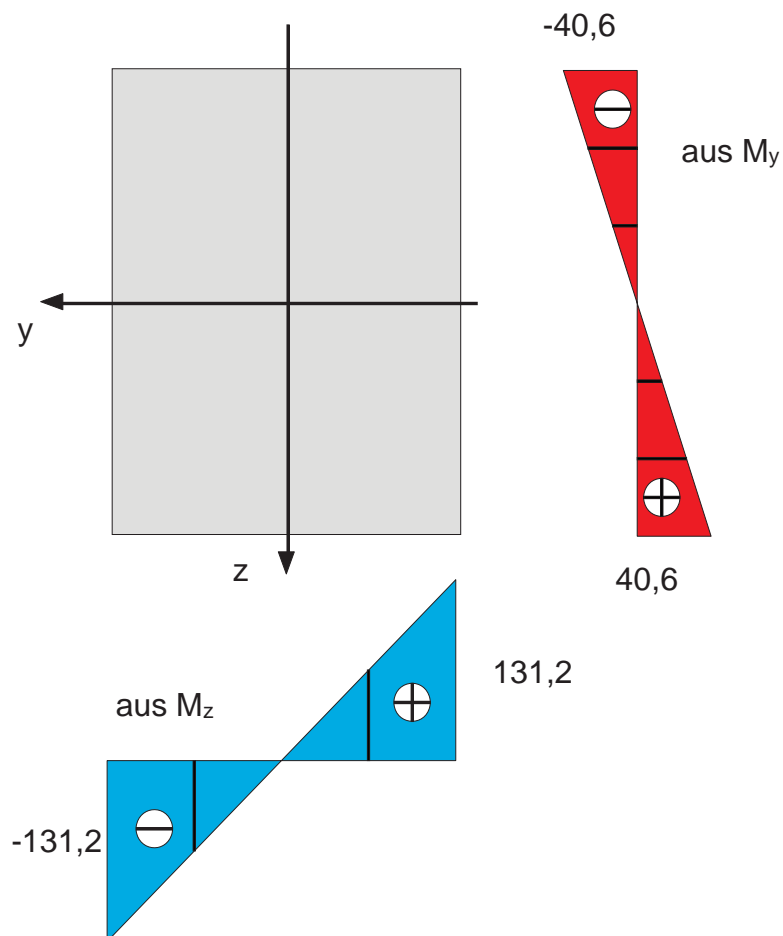
$$\sigma_u = \frac{M_y}{I_y} z_u =$$

Randspannungen infolge  $M_z$ :

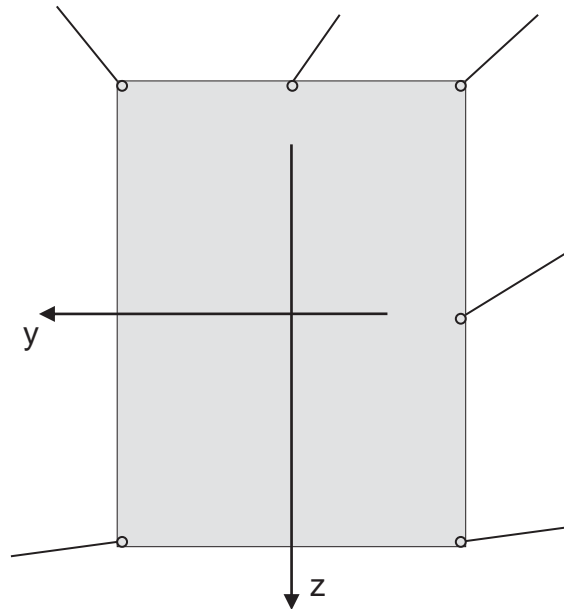
$$\sigma_{li} = -\frac{M_z}{I_z} y_{li} =$$

$$\sigma_{re} = -\frac{M_z}{I_z} y_{re} =$$

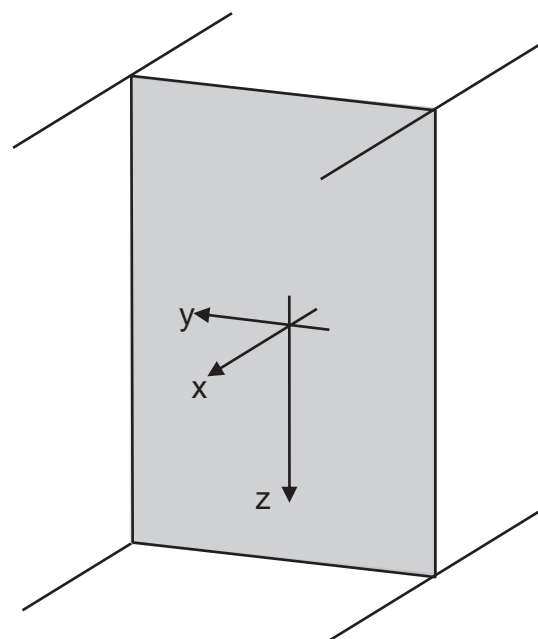
Spannungen infolge  $M_y$  und  $M_z$  getrennt:



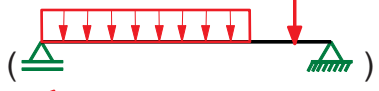

Überlagerung der Spannungen an den ausgewählten Punkten:



Spannungsverlauf:



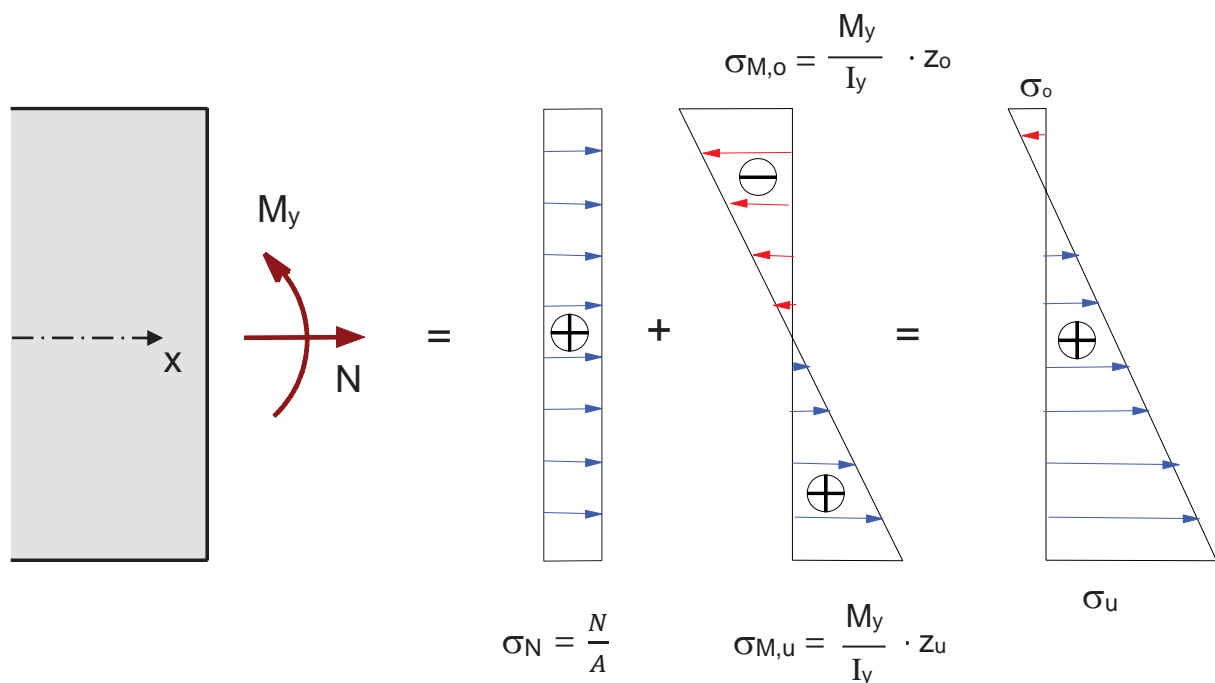
### 5.3.3 Einfache Biegung mit Längskraft

Wird ein System durch Kräfte senkrecht zur Stabachse (  ) und durch Kräfte in Stabachse (  ) gleichzeitig beansprucht, entstehen im Querschnitt des Stabes

- Zug- bzw. Drucknormalspannungen  $\sigma_N$
- Biegenormalspannungen  $\sigma_M$

Beide Spannungen wirken senkrecht (normal) zur geschnittenen Fläche und in die gleiche Richtung (nämlich in x-Richtung):

Sie müssen überlagert werden.

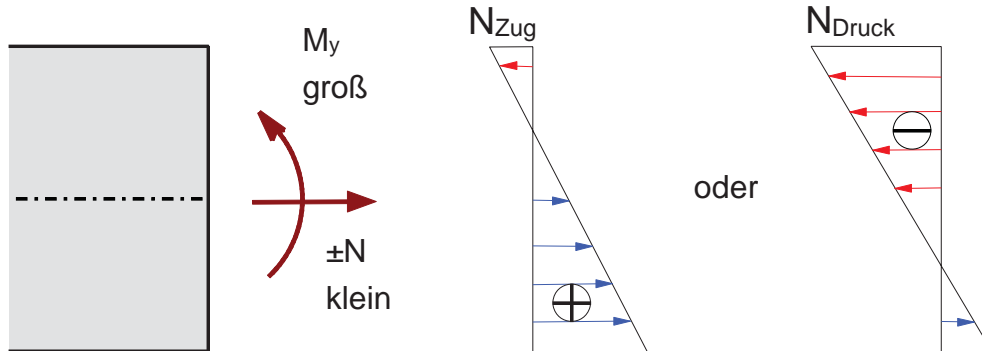


$$\sigma = \frac{N}{A} + \frac{M_y}{I_y} \cdot z$$

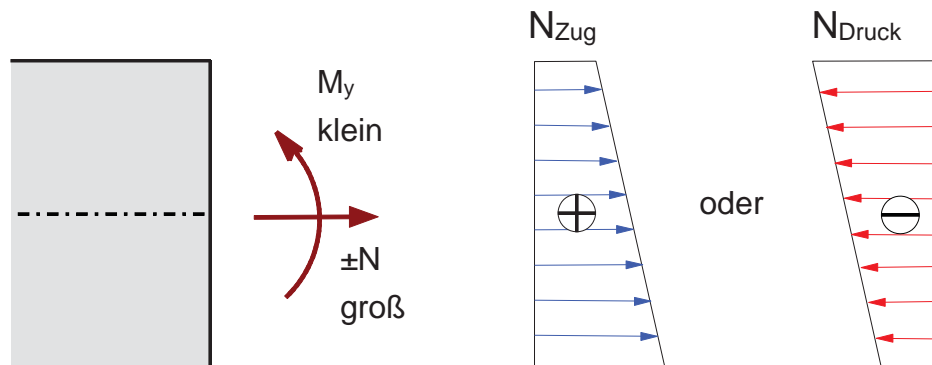


Es ergeben sich unterschiedliche Spannungsbilder

Überwiegend Biegung: Es treten Zug- und Druckspannungen im Querschnitt auf.

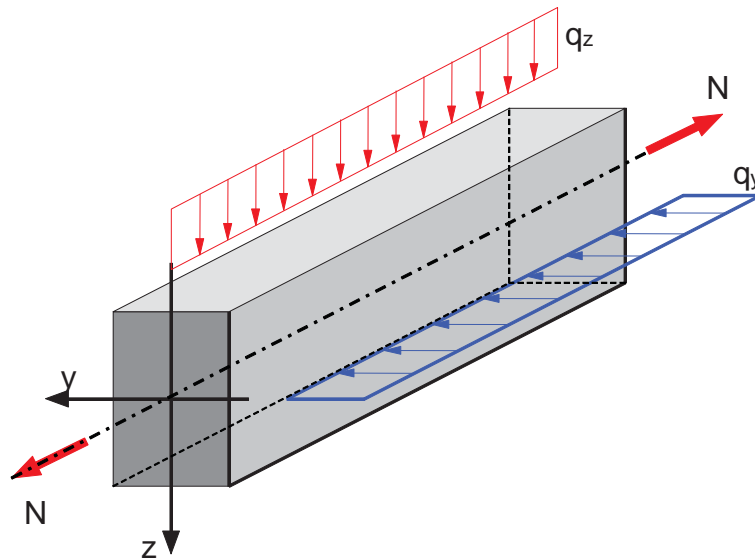


Überwiegend Normalkraft: Es treten nur Zugspannungen ( $N > 0$ )  
oder nur Druckspannungen ( $N < 0$ ) im Querschnitt auf.



### 5.3.4 Doppelbiegung mit Längskraft

Doppelbiegung mit Längskraft liegt vor, wenn der Querschnitt durch die Biegemomente  $M_y$  und  $M_z$  und durch eine Normalkraft beansprucht wird. Dieser Fall beinhaltet alle anderen Fälle.



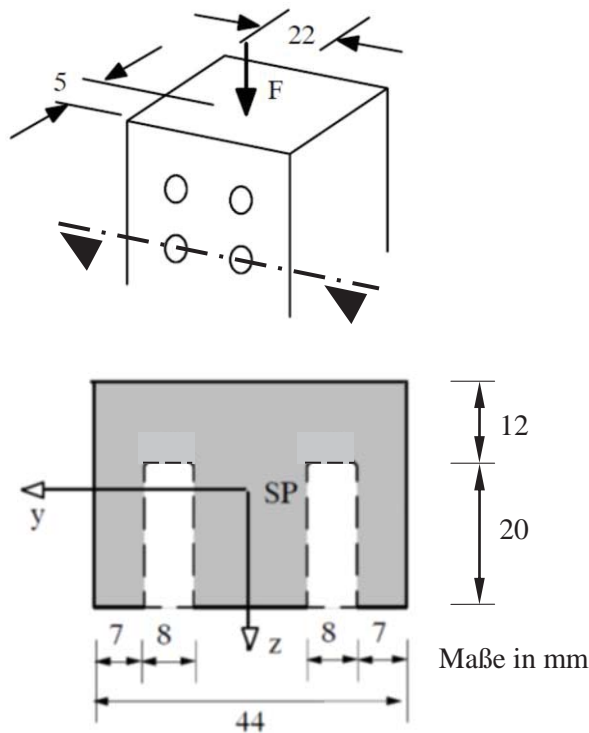
Berechnung der Normalspannungen durch Addition der einzelnen Spannungsanteile:

$$\sigma = \frac{N}{A} + \frac{M_y}{I_y} z - \frac{M_z}{I_z} y$$

Die grundsätzlichen Zusammenhänge sind ähnlich wie bei der Doppelbiegung: Die größten Spannungen treten an den Eckpunkten auf. Allerdings verschiebt sich das gesamte Spannungsbild um den konstanten Anteil aus  $N/A$ , welcher auch den Spannungswert im Schwerpunkt darstellt.

### Beispiel: Pfosten eines Regalsystems

Für das Regalsystem "IVAN" ist ein Pfosten aus Nadelholz mit den Querschnittsabmessungen 32 x 44 mm<sup>2</sup> vorgesehen. Durch die Bohrungen für die Halterungen der Fachböden wird der Querschnitt geschwächt (siehe Zeichnung).



- a) Berechnen Sie für den geschwächten Querschnitt die Lage des Schwerpunktes sowie die Trägheitsmomente  $I_y$  und  $I_z$ .

Teilfläche			Statisches Moment		Abstände für Steiner-Anteile		
	$A_i$ mm <sup>2</sup>	$y_{i \text{ quer}}$ mm	$z_{i \text{ quer}}$ mm	$A_i \cdot y_{i \text{ quer}}$ mm <sup>3</sup>	$A_i \cdot z_{i \text{ quer}}$ mm <sup>3</sup>	$\Delta y_i$ mm	$\Delta z_i$ mm
1							
2							
3							
<b>Gesamt A</b>				<b><math>S_{z \text{ quer}}</math></b>	<b><math>S_{y \text{ quer}}</math></b>		
<b>Lage des Schwerpunkts</b> bezogen auf die Ausgangsachsen				$y_s = S_z / A =$		mm	
				$z_s = S_y / A =$		mm	

Trägheitsmomente um y und z			
$I_{y,i}$	$A_i \cdot \Delta z_i^2$	$I_{z,i}$	$A_i \cdot \Delta y_i^2$
$\text{mm}^4$	$\text{mm}^4$	$\text{mm}^4$	$\text{mm}^4$
$\Sigma I_{y,i}$	Steiner-Anteil	$\Sigma I_{z,i}$	Steiner-Anteil
$I_y = \Sigma (I_{y,i} + A_i \cdot \Delta z_i^2) =$			$\text{mm}^4$
$I_z = \Sigma (I_{z,i} + A_i \cdot \Delta y_i^2) =$			$\text{mm}^4$

- b) Die resultierende Belastung F des Pfostens aus den Einlegeböden kann in der oben dargestellten Position angesetzt werden. Berechnen Sie für  $F = 1000 \text{ N}$  den Spannungsverlauf im Querschnitt.